

TEXTAUFGABEN GEWICHTE

Aufgabenkarten in drei Schwierigkeitsstufen



Rechnungsweg und Antwortsatz aufschreiben

zusammengestellt von Claudio Rogantini


Grafiken: Microsoft 365 Piktogramme



1. Ein Bleistift wiegt etwa 10 g.
Wie viel wiegen 10 Bleistifte?




10 g



Textaufgaben Gewichte



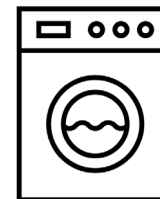
2. Bauer Müller braucht für seinen Traktor 4 neue Reifen. Ein Reifen wiegt etwa 300 kg.
Wie schwer sind alle 4 Reifen zusammen in Kilogramm?



Textaufgaben Gewichte



3. Roman schätzt das Gewicht seiner Waschmaschine auf 100 kg.
Beim Wägen zeigt die Waage genau 95 kg an.
Berechne den Unterschied.



Textaufgaben Gewichte




4. Anja und Tina wollen einen Kuchen backen. Dazu brauchen sie 5 g Zucker, 500 g Mehl, 50 g Schokolade und 7 g Puderzucker. Wie schwer sind alle Zutaten zusammen?



Textaufgaben Gewichte



5. Andreas geht mit seinem Vater angeln. Beide fangen einen Fisch. Der Fisch von Andreas wiegt 3000 g. Der Fisch vom Vater wiegt nur 1200 g. Wie viel schwerer ist der Fisch von Andreas?



Textaufgaben Gewichte




6. Daniela wiegt 45 kg. Ihr Bruder ist 8 kg schwerer. Wie schwer sind beide zusammen?



Textaufgaben Gewichte




7. Eine Tafel Schokolade wiegt 100 g. Thomas schneidet die Tafel in zwei Teile. Wie schwer sind diese Teile?



Textaufgaben Gewichte



8. Lisa erntet an einem Tag 235 kg Äpfel. Ihre ältere Schwester Andrea erntet doppelt so viele. Wie viel Kilogramm Äpfel ernten beide zusammen an einem Tag?



Textaufgaben Gewichte




9. Bauer Bruno füllt 500 kg Kartoffeln in Säcke zu je 10 kg ab. Wie viele Säcke werden benötigt?



Textaufgaben Gewichte



10. Max und Sandra essen gerne Kirschen. Max isst 100 g Kirschen und Sandra 150 g. Wie viel Gramm Kirschen essen beide zusammen?



Textaufgaben Gewichte




11. Janina steht auf die Waage und die Waage zeigt 54 kg an. Wie viel Kilogramm mehr als 40 kg wiegt Janina?



Textaufgaben Gewichte




12. Ein Kirschbauer erntet am 1. Tag 478kg Kirschen. Am 2. Tag erntet er nur noch die Hälfte vom 1. Tag. Wie viele Kilogramm Kirschen erntet der Bauer insgesamt an beiden Tagen?



Textaufgaben Gewichte



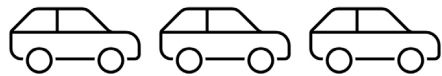
13. Ein Händler liefert 25 Kisten Äpfel zu je 10 kg und 10 Kisten Birnen zu je 5 kg. Wie viele Kilogramm liefert der Händler insgesamt?



Textaufgaben Gewichte



14. Ein Kleinauto wiegt etwa 1t. Ein Transportlastwagen liefert 10 Kleinautos. Wie schwer ist die Ladung in Tonnen?



Textaufgaben Gewichte



15. Martin braucht für den Markt insgesamt 500 kg Kartoffeln. Am ersten Tag erntet er 123 kg, am zweiten erntet er 214 kg. Wie viel Kilogramm muss er am dritten Tag noch ernten?



Textaufgaben Gewichte



16. Mila backt Muffins. Für die Muffins braucht sie 300 g Mehl. Sie kauft einen Sack Mehl (1 kg). Wie viel Mehl bleibt nach dem Backen noch übrig?



Textaufgaben Gewichte



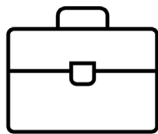
17. Simon kauft sich ein neues Fahrrad. Das neue Fahrrad wiegt nur 8kg. Sein altes Fahrrad wog 8,5 kg. Wie viel Kilogramm leichter ist sein neues Fahrrad?



Textaufgaben Gewichte




18. In Linas Schultasche befinden sich: zwei Schulbücher (jedes wiegt 300 g), ein Etui (150 g) und eine Trinkflasche mit Wasser (550 g). Wie schwer ist Linas Schultasche?



Textaufgaben Gewichte




19. Die 4 Reifen von Bauer Brunos Traktor wiegen zusammen 2,4 t. Wie schwer wiegt ein Reifen in Kilogramm?



Textaufgaben Gewichte



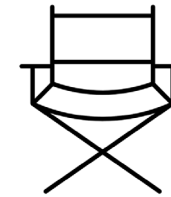
20. Hanna möchte wissen, wie schwer ein grosser Sack Gummibärchen ist. Ein Gummibärchen wiegt etwa 2 g. Im Sack befinden sich ca. 1500 Gummibärchen. Wie schwer ist der grosse Sack in Kilogramm?



Textaufgaben Gewichte




21. Ein Holzmöbel steht auf der Waage. Die Waage zeigt an 5115 g. Wie viel Gramm mehr als 5 kg wiegt das Möbel?



Textaufgaben Gewichte



22. Ein Lastwagen hat ein Leergewicht von 15 t. Eine Ladung Weizen wird in den Lastwagen eingeladen. Der Lastwagen hat nun ein Gesamtgewicht von 18 t. Wie schwer ist die Ladung Weizen?



Textaufgaben Gewichte



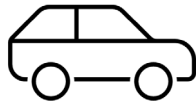
23. Antonia backt mit ihrer Mutter einen Kuchen. Sie kaufen ein: 2 kg Mehl, 250 g Butter, 1 kg Zucker, 160 g Schokolade und 5 g Vanille-Zucker. Wie schwer ist der Einkauf?



Textaufgaben Gewichte




24. Anna kauft sich ein Kleinauto (1 t). Das Gewicht des Autos ohne die Räder ist 850kg. Wie schwer sind alle Räder zusammen?



Textaufgaben Gewichte




25. Drei Affen fressen jeden Monat (4 Wochen) 600 kg Bananen. Wie viel Kilogramm Bananen frisst ein Affe in einer Woche?



Textaufgaben Gewichte



26. Eine Seilbahn darf maximal 350 kg transportieren. Pro Person wird mit 80 kg gerechnet. Es sind schon drei Personen eingestiegen. Wie viele Personen dürfen noch einsteigen?



Textaufgaben Gewichte




27. Julian wiegt 45,2 kg, Daniel ist 5 kg schwerer. Wie viel wiegen beide zusammen?



Textaufgaben Gewichte



28. Marvin erntet 18 kg weniger Äpfel als Simona. Beide zusammen haben 50 kg Äpfel geerntet. Wie viele Kilogramm Äpfel hat Simona geerntet?



Textaufgaben Gewichte



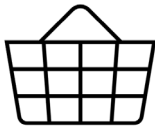
29. Doris backt eine Schokoladentorte. Dafür braucht sie 220 g Zucker. Im Zuckerpaket sind 0,5 kg Zucker. Wie viel Kilogramm hat Doris nach dem Backen noch übrig?



Textaufgaben Gewichte



30. Helga kauft 400 g Birnen, 300 g Orangen, 1 kg Bananen. Ihr Korb ist nun voll, aber sie braucht noch Äpfel. Helga legt 500 g Bananen aus dem Korb und kauft dafür 200 g Äpfel. Wie schwer ist ihr Korb in Kilogramm?



Textaufgaben Gewichte