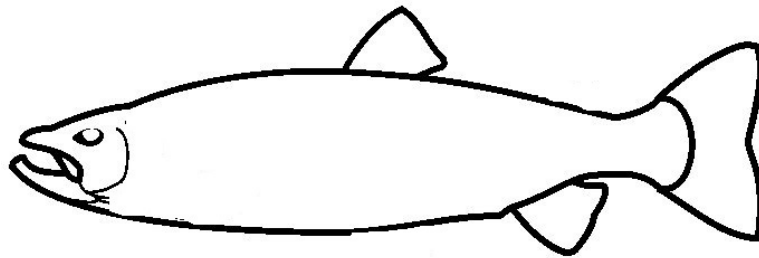


1. Zeichne bei diesem Fisch folgende Teile ein und BESCHRIFTE sie!



7


Fettflosse, Brustflosse, Bauchflosse, Kiemenbögen, Schwimmblase, Herz, Sinnesorgane

2. Ergänze den Text:

Den Hecht erkennt man an seinem ..... Körper.  
Er ist der grösste R..... in unseren Gewässern. Seine  
Tarnung sind seine S..... am ganzen Körper; der Bauch  
hingegen ist ..... Er hat rund ..... Zähne. Junge  
Hechte sind Kannibalen, das heisst .....  
..... Der grösste Feind der  
Hechte ist ..... .

7

3. Zeichne eine Fischlarve mit Dottersack. Beschrifte den Dottersack.



3

4. Woran erkennst du einen Jungfisch?

\_\_\_\_\_

1

5. Wie nennen wir ein Fischmännchen und ein Fischweibchen, wenn sie bereit zur Eiablage und Befruchtung der Eier sind?

Männchen = ..... Weibchen = .....


2

6. Wie muss die Stelle in einem Bach beschaffen sein, damit Forellenweibchen seine Eier legen kann? Nenne 4 Eigenschaften.

\_\_\_\_\_  
\_\_\_\_\_

4

7. Benenne die Süßwasserfische:



6

8. Die Eier vom Stör sind eine beliebte Delikatesse: Wie heisst diese?



\_\_\_\_\_

1

Punkte	Note	Unterschrift der Eltern